

Mokėjimo mokytis kompetencija

Stropiai mokausi kiekvienoje pamokoje ir įgyvendinu pamokos uždavinį.

Dalykinis gebėjimas

Gebėti užrašyti ir perskaityti dešimtaines trupmenas. Mokėti atlikti veiksmus su dešimtainėmis trupmenomis.

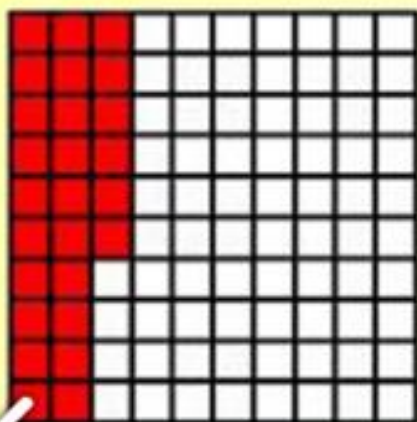
Dešimtinių trupmenų skaitymas ir rašymas

Uždavinys

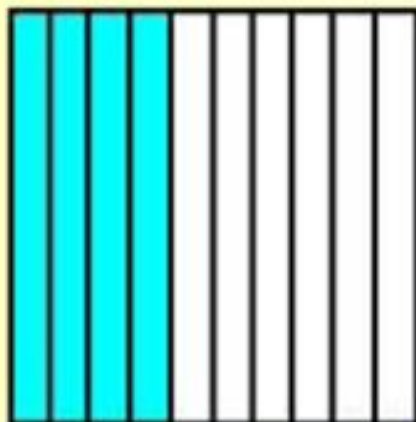
Mokėti perskaityti ir užrašyti dešimtainę
trupmeną, naudojantis skyrių
pavadinimų lentele

Kuri kvadrato dalis nuspalvinta?


a.



b.



c.



d.



$$\frac{11}{100}$$

PAPRASTASIAS
TRUPMENAS
PARAŠYKITE
DEŠIMTAINĖMIS

$$\frac{7}{1000}$$

$$\frac{17}{100}$$

$$\frac{9}{10}$$



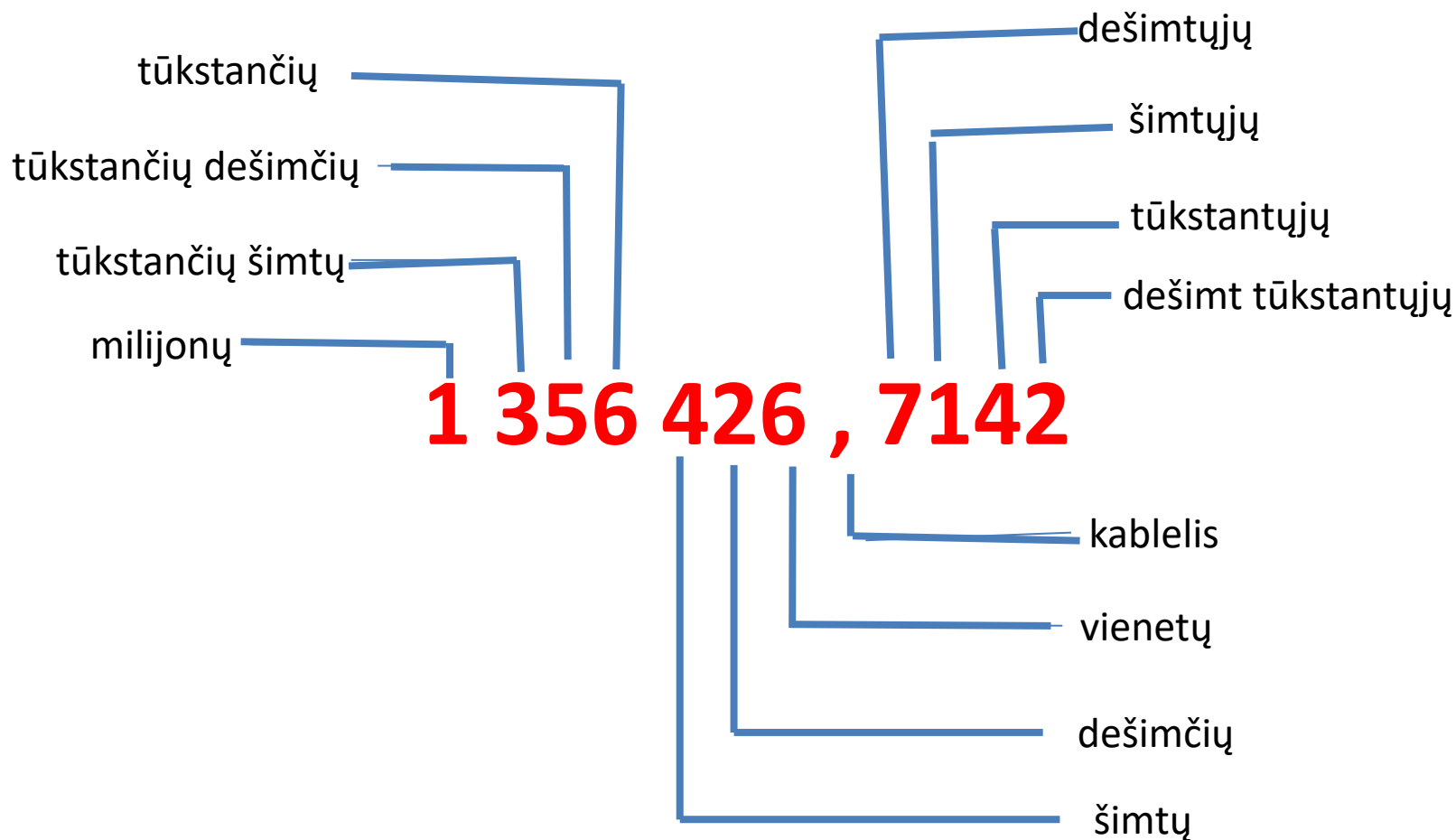
$$\frac{89}{100}$$

$$\frac{99}{1000}$$

$$\frac{43}{100}$$


Prisiminkime: skaičiaus skyrius

Skaičiaus skyrių pavadinimai



Skaičiaus skyrių pavadinimai

6 4 3 , 8 7 1



Skaičiaus skyrių pavadinimai


3

,

8

7

1



2
Įrašyk mane į
tūkstantųjų skyrių

Įrašyk mane į
vienetų skyrių **8**

	,			
--	---	--	--	--

Įrašyk mane į
šimtųjų skyrių **6**

Įrašyk mane į
dešimtųjų skyrių **5**

Dešimtinių trupmenų skyriai

tūkstančiai	šimtai	dešimtys	vienetai	kablelis	dešimtųjų	šimtųjų	tūkstantųjų



1) 34,2351

2) 0,030

3) 561,932

4) 2,09

5) 4 123,4

6) 23,093

7) 56 234,506

8) 301,113

Perskaityk dešimtaines trupmenas ir pasakyk pabraukto skaitmens skyrių

Pasakykite skaitmens 1 skyriaus pavadinimą ir perskaitykite trupmeną

245,18

Tūkstančių

Šimtųjų

Vienetų

Dešimtųjų

Tūkstantųjų skyriaus skaitmuo yra pats didžiausias, šimtųjų du kartus didesnis negu dešimčių, o vienetų- vienetu mažesnis negu šimtųjų skyriaus skaitmuo. Parašykite trupmeną. Pasitikrinkite paspaudę žvaigžduotes.

--	--	--	--



1

3

5

6

7

8

Klasės darbas

Nr. 247; 249; 250



Namų darbas

Nr. 246; 248

Įsivertinimas



Rytoj mokysimės dešimtinių trupmenų palyginimą ir apvalinimą

